

CONCURSUL ȘCOLAR NAȚIONAL DE COMPETENȚĂ ȘI PERFORMANȚĂ COMPER
EDIȚIA 2023-2024 / ETAPA I – 19 ianuarie 2024
COMPER – MATEMATICĂ
CLASA PREGĂTITOARE

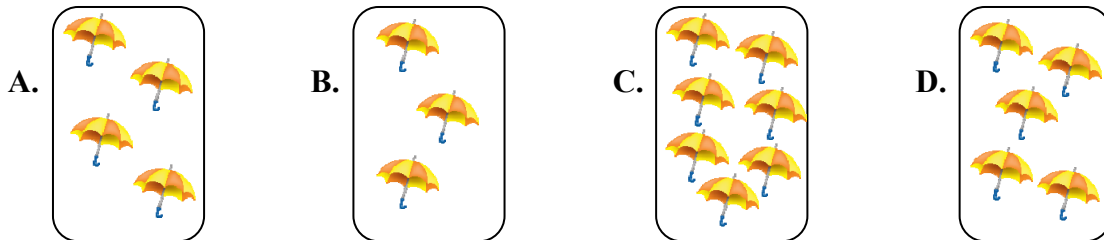
Numele:
 Prenumele:.....
 Școala: / Clasa:
 Codul C.I.C. (codul de identificare Comper) al elevului:.....
 Codul C.I.C. (codul de identificare Comper) al profesorului mentor:.....

- Toate subiectele sunt obligatorii.
- Timpul efectiv de lucru este de 50 de minute.
- Cerințele vor fi citite de învățător/supraveghetor.


Ascultă cu atenție enunțurile, apoi bifează în grilă răspunsurile corecte.

STANDARD


1. MULȚIMEA CARE ARE CELE MAI PUȚINE ELEMENTE ESTE:




2. ALEGE FRUCTUL CARE URMEAZĂ:



3. GĂSEȘTE INTRUSUL:





4. CARE SUNT VECINII ALBINUȚEI?



- A. 3 și 4; B. 4 și 6; C. 5 și 6; D. 7 și 8.

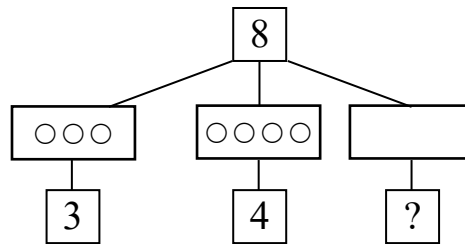
5. CARE DINTRE FIGURILE DE MAI JOS ESTE CERCUL?

- A.  B.  C.  D. 

6. NUMERELE SUNT AȘEZATE ÎN ORDINE DESCRESCĂTOARE ÎN ȘIRUL:

- A. 1, 2, 3, 4; B. 4, 2, 1, 3; C. 4, 2, 3, 1; D. 4, 3, 2, 1.

7. COMPLETEAZĂ CU NUMĂRUL POTRIVIT:



- A. 1; B. 2; C. 3; D. 4.


EXCELENȚĂ

8. CE NUMĂR ASCUNDE FRUNZA?



- 1 3 5 9
- A. 7; B. 8; C. 6; D. 3.

9. CÂTE CIFRE DINTRE CELE DE MAI JOS SE GĂSESC ÎNTRE 3 ȘI 9?



- A. 3; B. 6; C. 4; D. 7.

Itemii 1-7 se notează cu câte 10 puncte fiecare; itemii 8-9 se notează cu câte 15 puncte fiecare.
 Total: 100 de puncte.